

512D

512

D

نام :
نام خانوادگی :
محل امضاء :

دفترچه شماره ۱
صبح جمعه
۹۲/۱۱/۱۸



جمهوری اسلامی ایران
وزارت علوم، تحقیقات و فناوری
سازمان سنجش آموزش کشور

اگر دانشگاه اصلاح شود مملکت اصلاح می‌شود.
امام خمینی (ره)

آزمون ورودی دوره‌های کارشناسی ارشد ناپیوسته داخل - سال ۱۳۹۳

مجموعه مهندسی کامپیوتر - کد ۱۲۷۷

مدت پاسخگویی: ۱۵۰ دقیقه

تعداد سؤال: ۷۳

عنوان مواد امتحانی، تعداد و شماره سؤالات

ردیف	مواد امتحانی	تعداد سؤال	از شماره	تا شماره
۱	زبان عمومی و تخصصی (انگلیسی)	۳۰	۱	۳۰
۲	ریاضیات (ریاضیات مهندسی، آمار و احتمالات، محاسبات عددی، ساختمان‌های گسسته)	۱۶	۳۱	۴۶
۳	دروس تخصصی مشترک (ساختمان داده‌ها، نظریه زبانها و ماشینها، مدارهای منطقی، معماری کامپیوتر، سیستم عامل)	۲۷	۴۷	۷۳

بهمن ماه سال ۱۳۹۲

استفاده از ماشین حساب مجاز نمی‌باشد.

این آزمون دارای نمره منفی است.

حق چاپ و تکثیر سؤالات پس از برگزاری آزمون برای تمامی اشخاص حقیقی و حقوقی تنها با مجوز این سازمان مجاز می‌باشد و با متخلفین برابر مقررات رفتار می‌شود.

Part A: Vocabulary

Directions: Choose the word or the phrase (1), (2), (3), or (4) that best completes each sentence. Then mark your answer sheet.

- 1- The two groups of students should be taught differently in that their learning needs are quite _____.
1) bizarre 2) distinct 3) stable 4) reckless
- 2- This mildly picaresque novel _____ a boy's flight from prep school to an eventful weekend in a big city.
1) recounts 2) accumulates 3) asserts 4) restricts
- 3- The two companies worked in _____ and lowered their prices to make their rival company collapse.
1) ambivalence 2) validity 3) chaos 4) collusion
- 4- The U.S. was accused of _____ international efforts to combat global warming.
1) regretting 2) convicting 3) undermining 4) accelerating
- 5- Richard is so _____ that his diet consists almost exclusively of catfish and chicken liver-the two most inexpensive foods in the store.
1) frugal 2) timid 3) selective 4) astute
- 6- Even after traveling 62 miles, the _____ runner kept on moving.
1) congenial 2) indefatigable 3) flimsy 4) indifferent
- 7- As we traveled to college for the first time, the family car was laden with books, clothing, _____, and other necessities.
1) warehouses 2) amenities 3) fragments 4) appliances
- 8- When Eileen _____ me to a fight, I could see the hatred in her eyes.
1) strengthened 2) derived 3) challenged 4) justified
- 9- People like to be around George because he is so _____ and good-natured, so it comes as no surprise that he has so many good friends.
1) affable 2) sarcastic 3) superficial 4) half-hearted
- 10- The new tax policy was criticized in that it was argued that the rich were actually the main _____ of the tax cuts.
1) hedonists 2) savants 3) benefactors 4) beneficiaries

Part B: Cloze Passage

Directions: Read the following passage and decide which choice (1), (2), (3), or (4) best fits each space. Then mark your answer sheet.

Quantum teleportation exploits some of the most basic (and peculiar) features of quantum mechanics, (11) _____ in the first quarter of the 20th century to explain (12) _____ at the level of individual atoms. (13) _____ the beginning, theorists realized that quantum physics led to a plethora of new phenomena, (14) _____ defy common sense. Technological progress in the final quarter of the 20th century has enabled researchers to conduct many experiments that not only demonstrate fundamental, sometimes bizarre aspects of quantum mechanics but, (15) _____ in the case of quantum teleportation, apply them to achieve previously inconceivable feats.

- 11- 1) invented a branch of physics 2) a branch of physics invented
3) a branch of physics was invented 4) that invented a branch of physics
- 12- 1) occurrence in processes 2) that processes that occur
3) processes that occur 4) processes of occurrence
- 13- 1) Since 2) Of 3) From 4) For
- 14- 1) some of which 2) some of them 3) some of those 4) of them some
- 15- 1) also 2) as 3) like 4) such a

Directions: Read the following passages and answer the questions by choosing the best choice (1), (2), (3), or (4). Then mark the correct choice on your answer sheet.

Passage 1:

Driven by a new generation of wireless devices, user data traffic and the corresponding network load are increasing in an exponential manner. As a result, conventional homogeneous cellular deployments that are devised to cater to large coverage areas and optimized for homogeneous traffic are facing unprecedented challenges to meet the increasing demands. In order to enhance network capacity, there has been an increasing interest in deploying relays, distributed antennas, and small cells (such as picocells and femtocells) underlying current macrocell networks. Such network deployments are commonly referred to as heterogeneous and small cell networks (HetSNets). By deploying small cells within the local-area range and bringing the network closer to end-users, HetSNets can potentially improve spatial resource reuse and communication coverage, thus allowing future cellular networks to achieve higher data rates, while retaining the seamless connectivity and mobility of current cellular network deployments.

HetSNets inspire new challenges on resource management, signal processing, and security in the design of cellular systems. In many settings, HetSNets will require development of decentralized algorithms and autonomous operations of nodes, because of the delays and overhead in the backhaul connections between the nodes. Novel approaches for interference coordination and mitigation algorithms considering the characteristics of heterogeneous network interference will also become important. Cognitive radio techniques become more practical by viewing the macrocell network as the primary user and the second-tier network as the secondary user. This special issue aims to bring together contributions from academic and industrial researchers in the area of signal processing and resource management for wireless communications with an emphasis on heterogeneous networks.

- 16- The term “conventional” underlined in the provided text refers to:
 1) Partial 2) Typical 3) Social 4) Radical
- 17- According to the provided text, exponential growth of data traffic is due to:
 1) Heterogenous networks deployment need.
 2) Role of devices in macrocell, picocells and femtocells.
 3) Security signalling overhead for data protection and privacy.
 4) Wireless communication coverage on heterogoneous networks.
- 18- The underline term “unprecedented” in the provided text yields:
 1) Groundbreaking 2) Worldbreaking 3) Mindstoriming 4) Upcoming
- 19- Which one of the following statements is FALSE:
 1) Size of cells are proportional to network capacity.
 2) Network capacity can be increased by increasing number of relays.
 3) Higher number of users support can be met by deployment of HetSNets.
 4) Seamless mobility and connectivity assures spatial resource management.
- 20- The underlined term “Autonomous” in the provided text means:
 1) Independent 2) Automatic 3) Autonomic 4) Driven

Passage 2:

The emerging smart energy system is expected to be a large-scale cyber-physical system that can improve the efficiency, reliability, and robustness of power and energy grids by integrating advanced techniques from power systems, control, communications, signal processing, and networking. For instance, advanced communications and networking technologies are expected to play a vital role in the future smart grid infrastructures by supporting two-way energy and information flow and enabling more efficient monitoring, control, and optimisation of different grid functionalities and smart power devices. The efficient design of the forthcoming smart grid system faces a plethora of challenges at different levels ranging from communications and networking to control and power systems.

Smart meters, which transmit radio frequencies (RF) to provide two-way secure communication of electricity usage data to the electric company, will begin to replace mechanical meters used in homes and businesses. These devices have raised concerns among some consumers about cybersecurity threats and RF's impact on human health.

Cybersecurity threats can cause disruptions in the flow of power and other problems if cyber intruders send computer signals to the electronic controls used in some electric generation and transmission infrastructures. The electric power industry takes cybersecurity threats very seriously. In fact, electric companies must meet mandatory cybersecurity standards that require them to implement training programs, address physical security, and formulate plans for how they will recovery from such attacks.

As the smart grid is built, electric companies are incorporating cybersecurity protections into both the grid architecture and the new smart grid technologies. The electric power industry is working closely with vendors, manufacturers, and government agencies to ensure that the smart grid is secure. These measures will also help to ensure that customer data remains protected from cybersecurity threats.

The bottom line is that security cannot be added to a system as an afterthought. Strategic consideration of these issues will make a huge difference in the confidence and protection that the overall system provides. This is necessary whether the design effort is focusing on silicon chips, network components, end-user devices, the architecture, or the system as whole. We need to start at the very beginning of any microgrid project and consider privacy and security in all design criteria.

21- Bottom line, who is responsible to provide cybersecurity for smart grid systems?

- 1) Silicon chip designers of microgrid projects.
- 2) Strategic consideration of electric companies
- 3) Vendors, government agencies and electric power industry
- 4) End-user devices, the architecture, RF channels and network components

22- According to the provided text, which of the following statements is TRUE?

- 1) A key role in the future smart grid infrastructure is advanced communications and networking technologies.
- 2) Networking and communication standard measures will help to ensure that customer data remains protected from cybersecurity threats.
- 3) Networking companies are incorporating cybersecurity protections into both the grid architecture and the new smart grid technologies.
- 4) Communications and networking to control and power systems in forthcoming smart grid system introduces no new challenges at different levels.

- 23- The underline term "**Disruption**" in the provided text yields:
 1) Distressed 2) Disordered 3) Depression 4) Deceased
- 24- The underline term "**Mandatory**" in the provided text means:
 1) Updated 2) Optional 3) Obligatory 4) Technical
- 25- To attack a smart grid system, cyber intruders can send _____ to control the infrastructure.
 1) RF signals 2) Security threat 3) Computer signals 4) Cybersecurity alarm

Passage 3:

Secure transactions across the Internet have three goals. Firstly, two parties engaging in a transaction (for instance, an email or a business order) do not want a third party to be able to read their communication messages. Therefore, some form of data encryption is necessary to prevent this issue. Secondly, the receiver of the message should be able to detect whether someone has tampered the message during the transmission process. This is called a message integrity scheme. Finally, both parties must know that they are communicating with each other, and not an intruder. This is done by means of user authentication techniques.

Today's data encryption methods rely on a technique called public-key cryptography. Everyone using the public-key system holds a public-key and a private-key. Messages are encrypted and decrypted with these keys. In other words, an encrypted message with your public-key can only be decrypted by a system that knows your private-key.

For a communication system to work securely, two parties engaging in a secure transaction must be aware of each other's public-keys. Private-keys, however, are closely guarded secret information known only to their owners. For instance, when I want to send you an encrypted message, I use your public-key to turn my message into gibberish. I know that only you can turn the gibberish back into the original message, as you are the only entity that holds your own private-key. Public-key cryptography also works in reverse; i.e., only your public-key can decipher your private-key's encrypted message.

- 26- What is the best title for this passage?
 1) Public-key vs. Private-key 2) Safe Data Transfer
 3) Data Encryption techniques 4) Data Security Challenges
- 27- What is the best description for the underlined word "gibberish" as highlighted in the provided text?
 1) Person pretending to be someone else 2) Message authentication feature
 3) Meaningless data 4) Garbage
- 28- A message encrypted with the recipient's public key can only be decrypted with:
 1) The sender's private-key 2) The recipient's private key
 3) The sender's public-key 4) Both recipient's and sender's private key
- 29- Which one of the followings is not necessary to achieve a secure transaction via Internet?
 1) Data encryption 2) User authentication
 3) Third party detection 4) Message integrity scheme
- 30- Which system is commonly used for data encryption?
 1) Data security system 2) Data hiding system
 3) Private-key system 4) Public-key system

-۳۱ پاسخ $u(x, t)$ مسأله

$$u_{tt} = u_{xx}, \quad 0 < x < 1, \quad t > 0$$

$$u_x(0, t) = 0, \quad u(1, t) = 0$$

$$u(x, 0) = 0, \quad u_t(x, 0) = \sin x$$

عبارت است از:

$$\sum_{n=1}^{\infty} C_n \cos(n\pi t) \sin(n\pi x) \quad (۱)$$

$$\sum_{n=1}^{\infty} C_n \sin \frac{(2n-1)\pi t}{2} \cos \frac{(2n-1)\pi x}{2} \quad (۲)$$

$$\sum_{n=1}^{\infty} C_n \cos \frac{(2n-1)\pi t}{2} \sin \frac{(2n-1)\pi x}{2} \quad (۳)$$

$$\sum_{n=1}^{\infty} C_n \sin(n\pi t) \cos(n\pi x) \quad (۴)$$

-۳۲ اگر $f(z) = u(r, \theta) + iv(r, \theta)$ تابعی تحلیلی باشد و $u = -r^3 \sin 3\theta$ تابع $f(z)$ بر حسب z کدام است؟

$$-iz^3 + ik \quad (۲) \qquad -z^3 + ik \quad (۱)$$

$$z^3 + ik \quad (۴) \qquad iz^3 + ik \quad (۳)$$

-۳۳ مقدار $\oint_{C_r} \frac{e^z}{(z^2+1)(z-3)} dz$ که در آن C_r دایره‌ای به مرکز مبدأ و با شعاعثابت r که در آن $1 < r < 2$ باشد، کدام است؟

$$\frac{\pi}{5}(\sqrt{3} \cos 1 + \sin 1)i \quad (۲) \qquad -\frac{\pi}{5}(\cos 1 + \sqrt{3} \sin 1)i \quad (۱)$$

$$-\frac{\pi}{5}(e^{\sqrt{3}} + \sqrt{3} \sin 1)i \quad (۴) \qquad \frac{\pi}{5}(\cos 1 + e^{\sqrt{3}})i \quad (۳)$$

-۳۴ در معادله‌ی انتگرالی $\int_0^{\infty} f(\lambda) \sin \lambda x \, d\lambda = \begin{cases} \cos x & 0 < x < \pi \\ 0 & x > \pi \end{cases}$ تابع $f(\lambda)$ کدام است؟

$$\frac{2}{\pi(\lambda^2-1)}(1+\cos \lambda\pi) \quad (۲) \qquad \frac{2\lambda}{\pi(\lambda^2-1)}(1-\cos \lambda\pi) \quad (۱)$$

$$\frac{2}{\pi(\lambda^2-1)}(1-\cos \lambda\pi) \quad (۴) \qquad \frac{2\lambda}{\pi(\lambda^2-1)}(1+\cos \lambda\pi) \quad (۳)$$

۳۵- متغیر تصادفی X دارای تابع احتمالی به صورت

$$f(x) = \begin{cases} 2e^{-2x} & x \geq 0 \\ 0 & \text{در سایر جاها} \end{cases}$$

است. مقدار $P(|X - \mu| < 1)$ کدام است؟
(μ میانگین متغیر تصادفی X است)

(۱) $\frac{1}{\sqrt{e}}$

(۲) e^{-2}

(۳) $\frac{1}{e}$

(۴) $1 - e^{-2}$

۳۶- متغیر تصادفی X دارای تابع احتمالی به صورت زیر است.

$$f(x) = \frac{1}{\pi(x^2 + 1)}, \quad x \in \mathbb{R}$$

مقدار $P(\frac{1}{3} < X^2 < 1)$ کدام است؟

(۱) $\frac{\pi}{6}$

(۲) $\frac{5}{12}$

(۳) $\frac{1}{6}$

(۴) $\frac{\pi}{4}$

۳۷- متغیر تصادفی X دارای تابع احتمال زیر است.

$$f(x) = ce^{-a|x|}, \quad x \in \mathbb{R} \quad (a > 0)$$

مقدار ثابت c کدام است؟

(۱) $\frac{a}{2}$

(۲) $\frac{1}{a}$

(۳) $\frac{2}{a}$

(۴) a

۳۸- سه جعبه داریم که در جعبه اول ۳ مهره سفید و ۵ مهره سیاه، در جعبه دوم ۴ مهره سفید و ۴ مهره سیاه و در جعبه سوم ۶ مهره سفید و ۲ مهره سیاه است. جعبه‌ای را به تصادف انتخاب و سه مهره از این جعبه بیرون می‌آوریم. اگر مهره‌های انتخابی یک سفید و دو سیاه باشند، احتمال این که جعبه دوم انتخاب شده باشد، کدام است؟

$$(۱) \frac{۳}{۵}$$

$$(۲) \frac{۲}{۵}$$

$$(۳) \frac{۱}{۵}$$

$$(۴) \frac{۴}{۵}$$

۳۹- در یک دستگاه ممیز شناور نرمال شده برای نمایش اعداد حقیقی در مبنای ۷ با ۲ رقم مانتیس و روش بریدن، فاصله بین عدد ۷ (در مبنای ۱۰) و نزدیکترین عدد قابل نمایش دیگر چقدر است؟

$$(۱) \frac{۱}{۷}$$

$$(۲) \frac{۶}{۷}$$

$$(۳) ۱$$

$$(۴) ۷$$

۴۰- برای محاسبه جدول کسرهای تفاضلی وابسته به درونیایی (x_i, f_i) $(i = 1, 2, \dots, n)$ ، توسط یک چند جمله‌ای از درجه کوچکتر یا مساوی n ، تعداد کسرهای تفاضلی محاسبه شده مورد نیاز برابر است با:

$$(۱) \frac{n^2}{۲}$$

$$(۲) \frac{n(n+1)}{۲}$$

$$(۳) \frac{n(n-1)}{۲}$$

$$(۴) n^2$$

۴۱- فرض کنید $T(h)$ قاعده انتگرال گیری عددی دوزنقه‌ای و $E(T)$ خطای آن باشد. برای انتگرال زیر مناسب‌ترین گزینه کدام است؟

$$\int_0^{10} (0.2x - 1) dx$$

$$(۱) E(T(\frac{h}{۴})) < E(T(h))$$

$$(۲) E(T(\frac{h}{۴})) < \frac{1}{۱۶} E(T(h))$$

$$(۳) E(T(\frac{h}{۴})) > \frac{1}{۳۲} E(T(h))$$

$$(۴) E(T(\frac{h}{۴})) = E(T(h))$$

- ۴۲- کدامیک از موارد زیر درست هستند؟
 الف) $[\forall x p(x) \Rightarrow \forall x q(x)] \Rightarrow \forall x [p(x) \Rightarrow q(x)]$
 ب) $\forall x [p(x) \Rightarrow q(x)] \Rightarrow [\forall x p(x) \Rightarrow \forall x q(x)]$
 (۱) تنها الف
 (۲) تنها ب
 (۳) هیچ کدام از الف و ب
 (۴) هر دو الف و ب
- ۴۳- با فرض آن که R یک رابطه بر روی مجموعه‌ی n عضوی A باشد و $R^* = R \cup R^2 \cup R^3 \cup \dots$ ، کدامیک از گزینه‌های زیر نادرست است؟
 (۱) R^* یک رابطه‌ی متعدی است.
 (۲) زوج مرتبی در R^* وجود دارد که در بستار تعدی R نیست.
 (۳) R^* برابر $R \cup R^2 \cup R^3 \cup \dots \cup R^n$ است.
 (۴) R^* می‌تواند خاصیت تقارن داشته باشد.
- ۴۴- چند عدد صحیح ۴ رقمی وجود دارد که در آن‌ها هر رقم از ارقام سمت چپ خود بزرگ‌تر نباشد؟
 (۱) ۷۱۴
 (۲) ۷۱۵
 (۳) ۴۹۵
 (۴) ۴۹۴
- ۴۵- جواب کلی رابطه‌ی بازگشتی $a_n = 7a_{n-1} - 10a_{n-2} + 4n$ چیست؟ (فرض کنید c_1, c_2, c_3 اعداد ثابتی هستند.)
 (۱) $a_n = c_1 2^n + c_2 5^n + c_3 3^n$
 (۲) $a_n = c_1 2^n + c_2 5^n + 3n$
 (۳) $a_n = c_1 2^n + c_2 5^n + n + c_3$
 (۴) $a_n = c_1 2^n + c_2 5^n + 3n + c_3$
- ۴۶- درجه‌های ورودی و خروجی یک گراف جهت دار G داده شده‌اند. فرض کنید که گراف طوقه (یالی از یک رأس به خودش) نداد و یال چندگانه هم نداریم (یعنی از یک رأس به رأس دیگر حداکثر یک یال جهت دار وجود دارد). برای چندتا از دنباله‌ی درجه‌های ورودی و خروجی زیر، گراف متناظری وجود دارد؟ فرض کنید که رأس‌های گراف از ۱ تا n شماره‌گذاری شده، و دنباله‌ی درجه‌ها به ترتیب شماره‌ی رأس‌ها آمده است.
 الف) $d_{out} = (2, 2, 1, 1)$ و $d_{in} = (0, 1, 2, 3)$
 ب) $d_{out} = (2, 2, 1)$ و $d_{in} = (2, 2, 1)$
 ج) $d_{out} = (2, 2, 3, 1, 2)$ و $d_{in} = (1, 1, 2, 3, 3)$
 (۱) ۰
 (۲) ۱
 (۳) ۲
 (۴) ۳

۴۷- در یک لیست خطی یک‌سویه با عناصر $\langle x_1, x_2, \dots, x_n \rangle$ اگر x_1 عنصر اول لیست باشد، جست‌وجو برای عنصر x_i برابر i واحد هزینه خواهد داشت. MTF (Move to Front) روشی برای کاهش میانگین زمان جست‌وجو است. در این روش هر عنصری که مورد جست‌وجو قرار می‌گیرد به ابتدای لیست منتقل می‌شود. لیستی با ۱۰۰ عنصر $A = \langle x_1, x_2, \dots, x_{100} \rangle$ را در نظر بگیرید. ابتدا به ترتیب عناصر زوج x_2 تا x_{100} و سپس عناصر فرد x_1 تا x_{99} را در A جست‌وجو می‌کنیم. اگر جست‌وجوی لیست به روش‌های (الف) عادی و (ب) MTF مدیریت شود، اختلاف میانگین هزینه‌ها بین این دو روش چقدر است؟

- (۱) ۰
(۲) ۱۲۷۵
(۳) ۳۷۷۵
(۴) ۲۵۵۰

۴۸- مخزنی با n لیتر آب داریم. هر بار $1/k$ از آب مخزن را برمی‌داریم. حداقل چند بار باید این کار را تکرار کنیم تا میزان آب به یک لیتر یا کم‌تر از آن برسد؟ فرض کنید $k > 2$.

- (۱) $\lceil \log_{k-1} n \rceil$ (۲) $\lceil \log_{1-\frac{1}{k}} n \rceil$ (۳) $\lceil \log_{1+\frac{1}{k}} n \rceil$ (۴) $\lceil \log_k n \rceil$

۴۹- بر روی لیست پیوندی و دوسویه Q که عناصر آن عدد هستند و اشاره‌گر به عنصر اول و آخر آن را داریم، اعمال زیر تعریف شده‌اند.

- $Delete(k)$: عنصر ابتدای Q را به ترتیب حذف می‌کند.
- $Append(c)$: عنصر آخر Q را نگاه می‌کند، اگر مقدارش از c بیش‌تر بود آن را حذف می‌کند. این کار را تکرار می‌کند تا عنصر انتهایی کم‌تر یا مساوی c شود (یا Q تهی شود). در آن صورت عنصر c را به انتهای صف درج می‌کند.

اگر دنباله‌ای از n تا از این دو عمل را با ترتیب دل‌خواه بر روی یک لیست تهی Q انجام دهیم، مجموع کل هزینه‌ها به کدام گزینه‌ی زیر نزدیک‌تر است؟

- (۱) $n - k$ (۲) n
(۳) $2n$ (۴) $3n$

۵۰- کمینه و بیشینه‌ی ارتفاع یک درخت «بی» (h) با ۱۰۰۰ عنصر با شرایط زیر چقدر است؟ هر بلوک برگ بین ۱ تا ۴ رکورد از عناصر را می‌تواند ذخیره کند. تعداد فرزندان گره‌های داخلی بین ۳ و ۵ و تعداد فرزندان ریشه بین ۲ تا ۵ است.

- (۱) $4 \leq h \leq 8$ (۲) $3 \leq h \leq 8$
(۳) $3 \leq h \leq 7$ (۴) $4 \leq h \leq 7$

۵۱- اگر $acdfbeg$ (از چپ به راست) پیمایش پیش‌ترتیب (preorder) یک درخت دودویی باشد، کدام یک از گزینه‌های زیر نمی‌تواند پیمایش میان‌ترتیب (inorder) آن باشد؟

- (۱) $fbhged$ (۲) $cabhged$
(۳) $fdbcage$ (۴) $adcbfge$

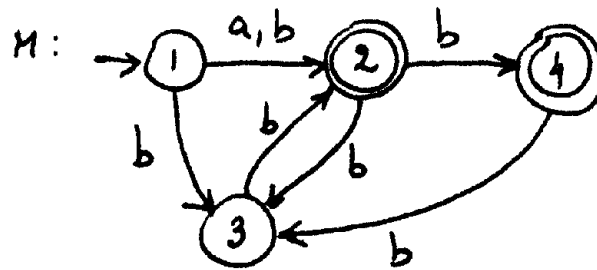
دروس تخصصی مشترک (ساختمان داده‌ها، نظریه زبانها و ماشینها، مدارهای منطقی، معماری کامپیوتر، سیستم عامل) 512D صفحه ۱۱

۵۲- هزار عنصر با کلیدهای ۱ تا ۱۰۰۰ را با تابع درهم‌سازی $h(i) = i^3 \bmod 10$ در آرایه‌ای به اندازه‌ی ۱۰ (و با اندیس‌های ۰ تا ۹) به روش زنجیره‌ای تخصیص می‌دهیم. احتمال آن‌که دو عنصر دلخواه (از کلیدهای داده‌شده) به یک درایه نگاشت شوند چقدر است؟ نزدیک‌ترین گزینه را انتخاب کنید.

- ۰/۲ (۴) ۰/۱ (۳) ۰/۰۲ (۲) ۰/۰۱ (۱)

۵۳- گرامر G ، ماشین M و عبارت منظم R با تعاریف زیر مفروضند. کدام گزاره است؟

$R = (a|b)(bb|b)^*$
 $G: S \rightarrow aAB|bAb$
 $A \rightarrow bbA|b|\epsilon$
 $B \rightarrow bB|bAB|\epsilon$



$L(G) = L(M) = L(R)$ (۱)

$L(M) \neq L(R) \neq L(G)$ (۲)

$L(G) \neq L(R), L(G) \neq L(M)$ (۳)

$L(G) \neq L(R), L(M) \neq L(R)$ (۴)

۵۴- کدام گزینه درباره گرامرهای G_1 و G_2 صحیح است؟

$G_1: S \rightarrow SS|(S)|\lambda$

$G_2: S \rightarrow (S)S|\lambda$

(۱) هر دو G_1 و G_2 مبهم و با هم معادلند.

(۲) G_1 مبهم و G_2 غیر مبهم ولی با هم معادلند.

(۳) هر دو G_1 و G_2 مبهم ولی معادل نیستند.

(۴) G_1 مبهم و G_2 غیر مبهم هستند و معادل نیستند.

۵۵- کدام یک از موارد زیر درست است؟

(۱) هر گرامر خطی، گرامر منظم است.

(۲) هر زبان خطی، مستقل از متن قطعی است.

(۳) هر زبان مستقل از متن غیر قطعی، ذاتاً مبهم است.

(۴) هیچ زبان منظمی نمی‌تواند غیر قطعی و یا ذاتاً مبهم باشد.

دروس تخصصی مشترک (ساختمان داده‌ها، نظریه زبانها و ماشینها، مدارهای منطقی، معماری کامپیوتر، سیستم عامل) **512D** صفحه ۱۲

۵۶- زبان $L = \{a^n b^n c^n : n \geq 0\}$ و زبان‌های وابسته آن به شرح زیر مفروض است:

I. $h(L)$, $h(a) = a$, $h(b) = bb$, $h(c) = b$

II. L^R

III. \tilde{L}

IV. $h(L)$, $h(a) = a$, $h(b) = bb$, $h(c) = a$

کدام گزینه صحیح است؟

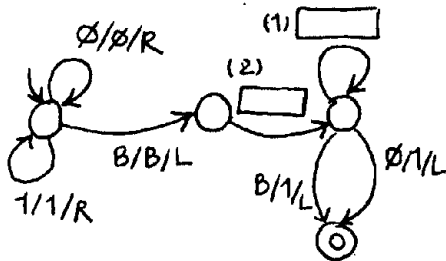
(۱) I مستقل از متن است و بقیه مستقل از متن نیستند.

(۲) I و III مستقل از متن و بقیه نیستند.

(۳) I و IV مستقل از متن و بقیه نیستند.

(۴) II مستقل از متن نیست و بقیه هستند.

۵۷- ماشین تورینگ مطابق شکل زیر با ورودی $x = (\phi + 1)^*$ مفروض است. به منظور پیاده سازی تابع $F(x) = x \text{div} 2 + 1$ آن را تکمیل نمایید. مقصود از ϕ یا یک (1) است.



(۱) $1: \phi/1/R$

(۲) $1: \phi/1/L$

(۳) $1: 1/\phi/L$

(۴) $1: 1/\phi/L$

(۱) $2: -/\phi/R$

(۲) $2: 1/B/L$

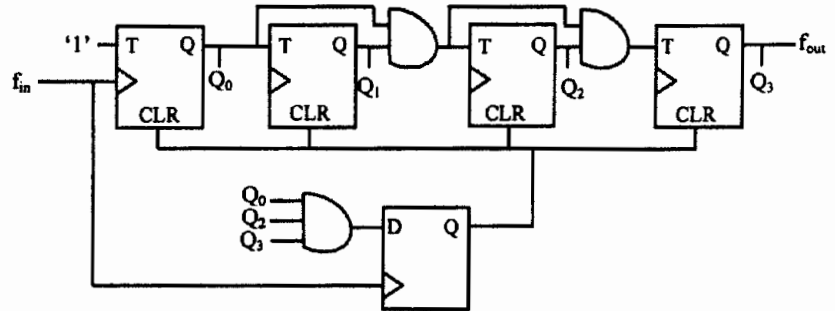
(۳) $2: -/B/L$

(۴) $2: 1/\phi/R$

۵۸- شکل زیر یک شمارنده را نشان می‌دهد. (۴ فلیپ فلاپ T و یک فلیپ فلاپ D) اگر فرکانس ورودی ساعت آن 2112 Hz باشد، فرکانس خروجی آن چند هرتز است؟ (سیگنال CLR، فلیپ فلاپ‌ها را به‌طور مستقل از کلاک صفر می‌کند)

$$f_{in} = f_{CLK} = 2112 \text{ Hz}$$

$$f_{out} = ?$$



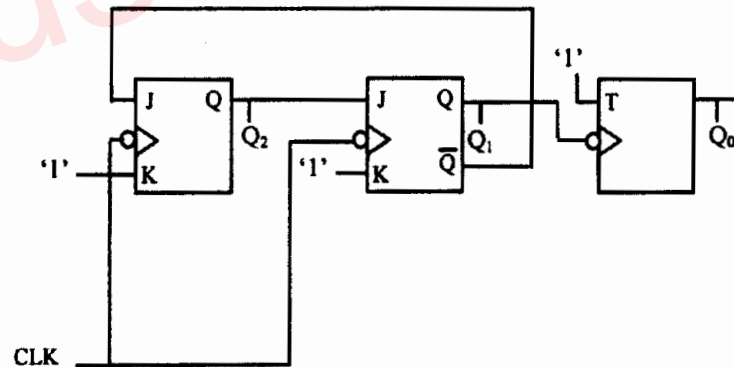
$$176 \text{ Hz} \quad (2)$$

$$192 \text{ Hz} \quad (1)$$

$$2112 \text{ Hz} \quad (4)$$

$$132 \text{ Hz} \quad (3)$$

۵۹- مدار شکل زیر از کدام دنباله پیروی می‌کند؟ خروجی به صورت $Q_2Q_1Q_0$ می‌باشد.



$$\circ \leftarrow 6 \leftarrow 5 \leftarrow 4 \leftarrow 2 \leftarrow 1 \leftarrow \circ \quad (1)$$

$$\circ \leftarrow 5 \leftarrow 4 \leftarrow 3 \leftarrow 2 \leftarrow 1 \leftarrow \circ \quad (2)$$

$$\circ \leftarrow 6 \leftarrow 5 \leftarrow 4 \leftarrow 3 \leftarrow 1 \leftarrow \circ \quad (3)$$

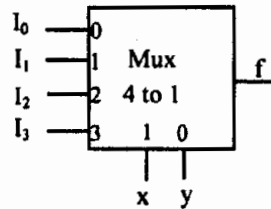
$$\circ \leftarrow 6 \leftarrow 5 \leftarrow 3 \leftarrow 2 \leftarrow 1 \leftarrow \circ \quad (4)$$

محل انجام محاسبات

دروس تخصصی مشترک 512D صفحه ۱۴
(ساختمان داده‌ها، نظریه زبانها و ماشینها، مدارهای منطقی، معماری کامپیوتر، سیستم عامل)

۶۰- ورودی‌های I_0 تا I_3 طوری انتخاب شده‌اند که خروجی mux، پیاده‌سازی تابع f باشد. حداقل گیت‌های دو ورودی لازم برای این کار چه تعداد است؟ (مکمل متغیرهای ورودی در اختیار نمی‌باشند)

$$L(x,y,z,t) = \Pi M(0,1,3,5,7) \text{ و } D(2,6,8,12)$$



۰ (۱)

۱ (۲)

۲ (۳)

۳ (۴)

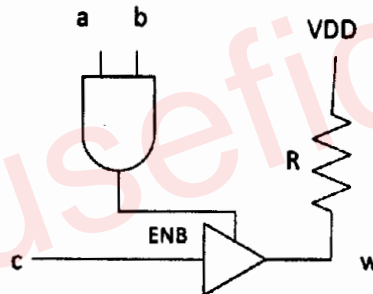
۶۱- در مدار زیر، گیت بافر یک بافر سه حالت است. کدام گزینه مقدار خروجی w را به درستی نشان می‌دهد؟ (گیت‌ها را ایده‌آل فرض نمایید.)

$$w = a + b + \bar{c} \quad (۱)$$

$$w = ab + c \quad (۲)$$

$$w = abc \quad (۳)$$

$$w = \bar{a} + \bar{b} + c \quad (۴)$$



۶۲- در تابع بولی که دارای ترمهای زیر می‌باشد ساده‌ترین فرم حاصل جمع حاصل ضربها (sum of products) کدام است؟

$$f(a,b,c,d,e) = \sum(0,2,4,9,11,12,14,18,20,21,27,29)$$

$$d(a,b,c,d,e) = (6,10,16,22,25)$$

$$F_{(a,b,c,d,e)} = \bar{A}\bar{D} + \bar{A}BD + \bar{A}\bar{B}C + B\bar{C}D\bar{E} \quad (۱)$$

$$F_{(a,b,c,d,e)} = \bar{B}\bar{E} + \bar{A}\bar{B}C + B\bar{D}E + BC\bar{D}E \quad (۲)$$

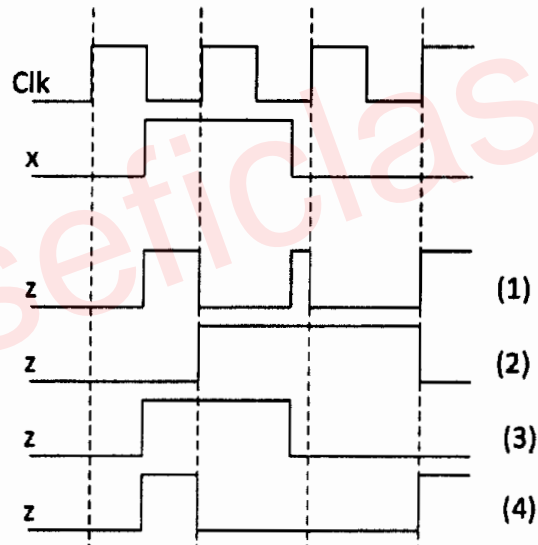
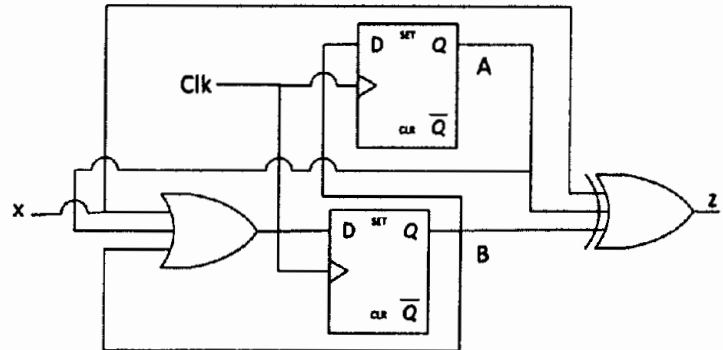
$$F_{(a,b,c,d,e)} = \bar{A}\bar{B}\bar{E} + \bar{A}\bar{B}D + B\bar{D}\bar{E} + BCD \quad (۳)$$

$$F_{(a,b,c,d,e)} = \bar{B}\bar{E} + B\bar{C}E + \bar{A}C\bar{E} + AC\bar{D}E \quad (۴)$$

محل انجام محاسبات

دروس تخصصی مشترک 512D صفحه ۱۵
 (ساختمان داده‌ها، نظریه زبانها و ماشینها، مدارهای منطقی، معماری کامپیوتر، سیستم عامل)

۶۳- با فرض آنکه فلیپ فلاپ‌ها از حالت اولیه صفر شروع می‌کنند برای مدار زیر کدام یک از شکل موج‌ها صحیح می‌باشند؟

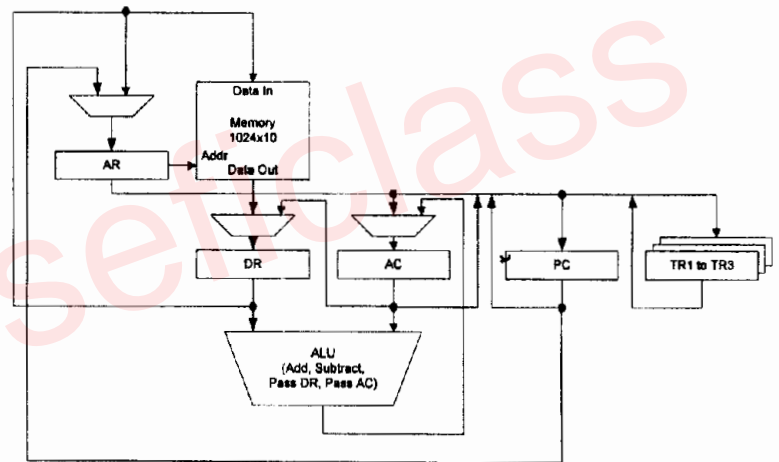


۶۴- برای طراحی یک ماژول حافظه‌ی ۲۵۶ مگابایتی با عرض داده ۳۲ بیت می‌توان از مجموعه‌ای از ماژول‌های ۴ مگابایتی با عرض داده ۸ بیت استفاده نمود. در این طراحی تعداد سیگنال‌های آدرس موردنیاز و نوع دیکودر مورد استفاده به ترتیب کدام است؟

- (۱) ۳، ۲۶ به ۸
- (۲) ۴، ۲۶ به ۱۶
- (۳) ۳، ۲۸ به ۸
- (۴) ۴، ۲۸ به ۱۶

۶۵- بخش مسیر داده (Datapath) یک پردازنده به شکل زیر داده شده است. به فرض این که نشانی دستور بعدی در ثبات PC باشد، چند سیکل ساعت لازم است تا دستور word add زیر واکنشی شده و اجرا شود؟
 حافظه ۱۰ بیتی است و هر دستورالعمل پردازنده حداقل ۲ کلمه است. همه‌ی ثبات‌ها ۱۰ بیتی و دارای خط کنترل INC برای increment کردن، CLR برای پاک کردن و LD برای بارگیری مقدار هستند. علامت (Addr) نشان دهنده آدرس دهی مستقیم (direct) است. دستور روی کلمه ۱۰ بیتی عمل می‌کند.
Wadd (src1), (src2), (dst)
 فرمت دستور:

	30	20	10	0
Destination address	Operand2 address	Operand 1 address	Opcode	



- (۱) ۱۰
 (۲) ۱۵
 (۳) ۲۰
 (۴) هیچکدام

۶۶- برای محاسبه خروجی دهدهی $2 + (A \text{ Mod } 4) - 100 * A - 125 * A$ با داشتن عدد A (یک رقم BCD) گزینه صحیح کدام است؟
 (۱) حداقل به دو جمع‌کننده دهدهی نیاز داریم.
 (۲) حداقل به دو جمع‌کننده دودویی ۴ بیتی نیاز داریم.
 (۳) حداقل به یک ضرب‌کننده دهدهی و یک جمع‌کننده دهدهی نیاز داریم.
 (۴) هیچکدام

محل انجام محاسبات

صفحه ۱۷

512D

دروس تخصصی مشترک

(ساختمان داده‌ها، نظریه زبانها و ماشینها، مدارهای منطقی، معماری کامپیوتر، سیستم عامل)

۶۷- در یک حافظه نهان با نگاشت مجموعه - انجمنی (Set - associative) اگر تعداد

بلوک‌های هر مجموعه برابر 2^B باشد، حجم حافظه موردنیاز برای نگهداری tagها نسبت به حجم حافظه موردنیاز برای نگهداری tagها در حافظه نهان هم اندازه با نگاشت مستقیم (با طول tag ده بیت) چند درصد افزایش پیدا می‌کند؟

(۱) B

(۲) $10 \times B$ (۳) $100 \times B$

(۴) با داده‌های موجود قابل تعیین نیست.

۶۸- یک وقفه خارجی است که با برنامه در حال اجرا می‌باشد در

حالی که یک وقفه داخلی است که با برنامه در حال اجرا است.

- (۱) وقفه ناشی از مدار ناظر بر منبع تغذیه - ناهمگام - وقفه ناشی از سر ریز پشته - همگام
- (۲) وقفه ناشی از سر ریز پشته - ناهمگام - وقفه ناشی از مدار ناظر بر منبع تغذیه - همگام
- (۳) وقفه ناشی از مدار ناظر بر منبع تغذیه - همگام - وقفه ناشی از سر ریز پشته - ناهمگام
- (۴) وقفه ناشی از سر ریز پشته - همگام - وقفه ناشی از مدار ناظر بر منبع تغذیه - ناهمگام

۶۹- فرض کنید در یک سیستم نمایش اعداد ممیز - شناور، برای علامت توان و قسمت اعشاری به ترتیب از یک، پنج و ده بیت به صورت زیر استفاده می‌شود.



$$\text{مقدار عدد اعشاری} = (-1)^S \times 1, F \times 2^{E-15}$$

در این سیستم نمایش، بزرگترین عدد اعشاری قابل نمایش که از عدد یک کوچکتر است، کدام است؟

(۱) 3 BFF_{16} (۲) 03 FF_{16} (۳) 3 FFF_{16} (۴) 7 FFE_{16}

دروس تخصصی مشترک (ساختمان داده‌ها، نظریه زبانه‌ها و ماشینها، مدارهای منطقی، معماری کامپیوتر، سیستم عامل) 512D صفحه ۱۸

۷۰- اگر هد (head) دیسک روی سیلندر ۵۳ دیسک قرار داشته باشد و به سمت سیلندر صفر در حرکت باشد و به ترتیب از سمت چپ به راست سیلندرها ۶۷، ۶۵، ۱۲۴، ۱۴، ۱۲۲، ۳۷، ۱۸۳، ۹۸ درخواست شده باشند. الگوریتم برنامه‌ریزی C-SCAN به کدام ترتیب سیلندرها درخواست شده را بررسی می‌نماید؟

(۱) ۶۵، ۶۷، ۳۷، ۱۴، ۹۸، ۱۲۲، ۱۲۴، ۱۸۳

(۲) ۳۷، ۱۴، ۱۸۳، ۱۲۴، ۱۲۲، ۹۸، ۶۷، ۶۵

(۳) ۶۵، ۶۷، ۹۸، ۱۲۲، ۱۲۴، ۱۸۳، ۳۷، ۱۴

(۴) ۳۷، ۱۴، ۶۵، ۶۷، ۹۸، ۱۲۲، ۱۲۴، ۱۸۳

۷۱- کامپیوتری دارای m واحد از یک منبع است و n پردازنده برای در اختیار گرفتن این منابع با هم رقابت می‌کنند. هر پردازنده حداکثر به دو واحد از این منبع نیاز داشته و در هر زمان می‌تواند تنها یک واحد منبع را آزاد یا درخواست نماید. کدام یک از گزینه‌های زیر درباره حداکثر مقدار n که به ازای آن سیستم دچار بن‌بست نمی‌شود، درست است؟

(۱) $n < m$

(۲) $n < 2m - 1$

(۳) $n < m + 2$

(۴) $n < 2m$

۷۲- در یک سیستم صفحه‌بندی بر حسب تقاضا، اگر احتمال نقص صفحه برابر p باشد و زمان انتقال یک صفحه بین حافظه جانبی و حافظه اصلی برابر با d باشد و به طور میانگین نیمی از صفحات در حافظه اصلی تغییر پیدا کرده باشند. اگر از یک حافظه جانبی با سرعت ۲ برابر استفاده شود، آنگاه متوسط زمان دسترسی مؤثر به حافظه چقدر کاهش خواهد یافت؟

(۱) $\frac{3}{4}pd$

(۲) $\frac{2}{3}pd$

(۳) $\frac{1}{2}pd$

(۴) pd

۷۳- جدول زیر زمان ورود و زمان پردازش پردازنده‌ها را نشان می‌دهد. برای آنکه دو روش برنامه‌ریزی First Come First Served (FCFS) و Highest Response Ratio Next (HRRN) زمان‌بندی‌های یکسانی را تولید نمایند، چه رابطه‌ای باید بین t_C و t_B برقرار باشد؟ برای سادگی از زمان تعویض زمینه بین پردازنده‌ها صرف‌نظر کنید.

فرآیند	زمان ورود	زمان پردازش
A	۰	$t_A = 3$
B	۱	t_B
C	۲	t_C

(۱) $t_C < 2t_B$

(۲) $t_C < t_B$

(۳) $t_B < t_C$

(۴) $t_B < 2t_C$